

ВНИМАНИЕ! Фотографирование, копирование и распространение тестового материала влечет за собой административную ответственность.

Демонстрационный вариант теста по географии

Вариант содержит 50 заданий и состоит из части А (38 заданий) и части В (12 заданий). На выполнение всех заданий отводится 90 минут. Задания рекомендуется выполнять по порядку. Если какое-либо из них вызовет у Вас затруднение, перейдите к следующему. После выполнения всех заданий вернитесь к пропущенным. Будьте внимательны! Желаем успеха!

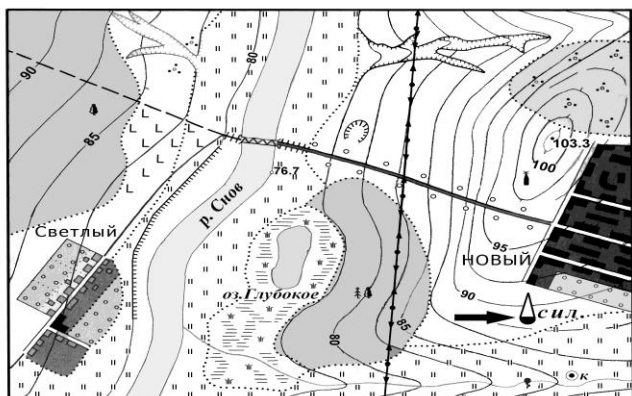
Часть А

В каждом задании части А **только один** из предложенных ответов является верным. В бланке ответов под номером задания поставьте метку (×) в клеточке, соответствующей номеру выбранного Вами ответа.

А1. Швейцарский исследователь морских глубин, который сконструировал батискаф «Триест» – это:

- 1) Тур Хейердал;
- 2) Жак Пикар;
- 3) Михаил Лазарев;
- 4) Жак Ив Кусто.

А2. Географический объект, отмеченный на плане местности стрелкой, – это:



- 1) луг;
- 2) фруктовый сад;
- 3) силосная башня;
- 4) сплошные заросли кустарников.

А3. Плоскогорье – это:

- 1) равнинный участок суши с абсолютной высотой до 200 м;
- 2) равнинный участок суши с абсолютной высотой свыше 500 м;
- 3) равнинный участок суши с абсолютными высотами от 200 до 500 м;
- 4) замкнутое со всех (или почти всех) сторон понижение суши, расположенное ниже уровня океана.

А4. Определите ОШИБОЧНОЕ утверждение:

- 1) атмосферное давление изменяется в течение суток;
- 2) летом в умеренном климатическом поясе климат формируется преимущественно под воздействием тропических воздушных масс;
- 3) в южной части Австралии в субтропическом климатическом поясе формируется континентальный тип климата;
- 4) в Северной Америке в умеренном климатическом поясе наибольшее количество осадков выпадает на побережье Тихого океана.

A5. Теплым океаническим течением является:

- 1) Бразильское; 2) Лабрадорское; 3) Западных Ветров; 4) Бенгельское.

A6. Для природной зоны хвойных лесов (тайги) характерен(-ны;-но):

- 1) зимний максимум осадков в азиатской части;
2) незначительные годовые амплитуды температур;
3) формирование зональных коричневых почв;
4) произрастание в европейской части сосны и ели.

A7. Характерной чертой монголоидной человеческой расы является:

- 1) желтый цвет кожи;
2) курчавые волосы;
3) различная окраска глаз и волос;
4) расселение преимущественно в Австралии.

A8. Республиками по форме государственного правления являются:

- 1) Судан, Япония; 3) Финляндия, Греция;
2) Норвегия, Индия; 4) Мексика, Испания.

A9. Государство, которое не является членом Европейского союза (ЕС), отмечено на карте точкой с цифрой:



- 1) 1;
2) 2;
3) 3;
4) 4.

A10. Для мировой промышленности характерен(-но):

- 1) рост добычи нефти в шельфовой зоне;
2) наличие крупнейших в мире разведанных запасов железной руды в Германии;
3) производство основной части рафинированной меди в развивающихся странах;
4) отсутствие нефтехимических предприятий в Африке.

A11. Среди указанных государств крупнейшими по размерам валового сбора риса являются:

- 1) США, Венесуэла; 3) Китай, Индия;
2) Азербайджан, Египет; 4) Канада, Германия.

A12. Географию мирового транспорта характеризует:

- 1) наибольшая протяженность железных дорог в транспортной сети мира;
2) ведущая роль автомобильного транспорта во внутренних перевозках грузов и пассажиров в Японии;
3) наибольшая протяженность внутренних водных путей в Индии;
4) ведущая роль воздушного транспорта в мировом грузообороте.

A13. Для территории Африки характерно(-а):

- 1) наличие рифтовой зоны на западе материка;
- 2) господство тропических воздушных масс в течение года на побережье Гвинейского залива;
- 3) принадлежность реки Нигер к области внутреннего стока;
- 4) широкое распространение сероземов в почвенном покрове тропических полупустынь и пустынь.

A14. Укажите ОШИБОЧНОЕ утверждение в характеристике социально-экономического развития Египта:

- 1) высокий уровень урбанизации населения;
- 2) арабы составляют основную часть населения страны;
- 3) в промышленности большую роль играет добыча нефти и природного газа;
- 4) столица является крупнейшим по численности городом государства.

A15. Укажите ОШИБОЧНОЕ утверждение в характеристике природы Австралии:

- 1) основание материка составляет древняя платформа;
- 2) большая часть материка не имеет стока в океан;
- 3) распространены заросли низкорослых колючих кустарников;
- 4) на материке отсутствуют ядовитые змеи.

A16. Для социально-экономического развития Австралийского Союза характерна(-о):

- 1) наиболее высокая плотность населения на северо-западе страны;
- 2) отсутствие нефтедобычи в структуре промышленности;
- 3) наибольшая доля пшеницы в структуре посевных площадей;
- 4) ведущая роль железнодорожного транспорта в грузообороте страны.

A17. Укажите ОШИБОЧНОЕ утверждение в характеристике Антарктиды:

- 1) ближе других материков к Антарктиде находится Австралия;
- 2) в отдельных местах под тяжестью льда суша прогнулась ниже уровня моря;
- 3) средние зимние температуры внутри континента составляют -60°C ;
- 4) по берегам гнездятся буревестники и серые чайки.

A18. В Южной Америке гилея – это:

- 1) полупустыни и пустыни;
- 2) саванны на Оринокской низменности;
- 3) влажные экваториальные леса Амазонии;
- 4) пространства, лишенные древесной растительности.

A19. Для социально-экономического развития стран Южной Америки характерна(-о):

- 1) федеративная форма государственного устройства большинства стран;
- 2) отсутствие собственного сырья для развития атомной энергетики;
- 3) ведущая роль аэрокосмической промышленности в структуре машиностроения;
- 4) выращивание кофе как одной из важнейших плантационных культур.

A20. Для социально-экономического развития Аргентины характерен(-на;-ны):

- 1) высокий уровень урбанизации;
- 2) ведущая роль АЭС в производстве электроэнергии;
- 3) наибольшие среди стран Южной Америки объемы производства кофе;
- 4) специализация животноводства преимущественно на разведении свиней.

A21. Для природы Северной Америки характерно(-а):

- 1) расположение гор Аппалач в области молодого складчатого пояса;
- 2) наличие моренных отложений на Центральных равнинах;
- 3) формирование субтропического средиземноморского климата на восточном побережье;
- 4) наибольшая полноводность реки Колорадо среди рек бассейна Тихого океана.

A22. ОШИБОЧНЫМ в характеристике социально-экономического развития Канады является утверждение:

- 1) пестрый (разнородный) этнический состав населения;
- 2) производство основной части электроэнергии на ТЭС;
- 3) развитие цветной металлургии преимущественно на собственном сырье;
- 4) концентрация большей части обрабатываемых земель в степной зоне.

A23. Установите соответствие «тектоническая структура – рельеф», закончив логический ряд: Восточно-Европейская платформа – ... :

- | | |
|-------------------------------|--------------------------------|
| 1) горы Судеты; | 3) Месопотамская низменность; |
| 2) Западно-Сибирская равнина; | 4) Приднепровская низменность. |

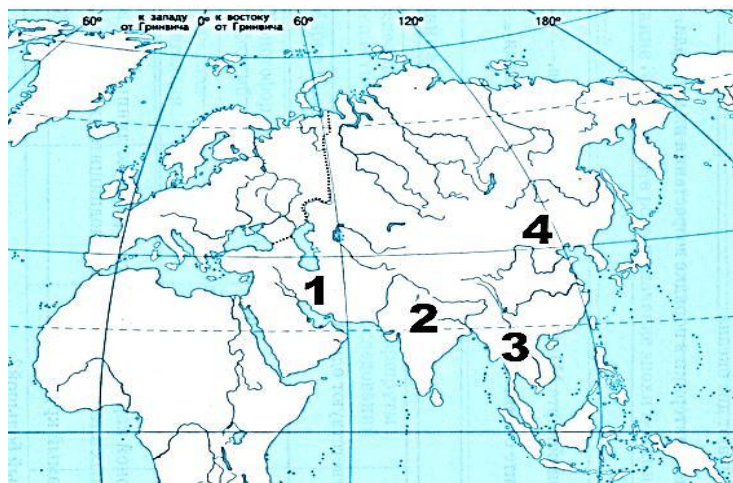
A24. По территории Европы протекают реки:

- | | |
|-------------------|-------------------|
| 1) Волга и Обь; | 3) Друть и Дон; |
| 2) Тигр и Евфрат; | 4) Амур и Енисей. |

A25. Для социально-экономического развития Польши характерна(-о; -ен):

- 1) занятость основной части экономически активного населения в частном секторе;
- 2) отсутствие собственного сырья для развития химической промышленности;
- 3) наибольший удельный вес кормовых культур в структуре посевных площадей;
- 4) лидерство внутреннего водного транспорта по объемам грузоперевозок.

A26. Физико-географический регион Азии, в пределах которого расположены такие географические объекты, как пустыня Гоби, озеро Лобнор, остров Тайвань, на карте обозначен цифрой:



- 1) 1;
- 2) 2;
- 3) 3;
- 4) 4.

A27. Для социально-экономического развития Китая, в отличие от Индии, характерна(-о; -ы):

- 1) занятость большей части населения в сельском хозяйстве;
- 2) наличие крупнейшей в мире гидроэлектростанции;
- 3) малые объемы производства химических волокон;
- 4) возделывание хлопчатника в качестве одной из главных технических культур.

A28. Территорию России омывают моря:

- 1) Северное и Охотское;
- 2) Норвежское и Желтое;
- 3) Баренцево и Черное;
- 4) Белое и Восточно-Китайское.

A29. В характеристике социально-экономического развития России ОШИБОЧНЫМ является утверждение:

- 1) самая распространенная религия – христианство;
- 2) Дальний Восток входит в зону очагового заселения;
- 3) основная часть электроэнергии производится на ТЭС, работающих на угле;
- 4) основу растениеводства составляет выращивание технических культур.

A30. Относительно географического положения Беларуси ВЕРНЫМ является утверждение:

- 1) по площади территории превосходит Украину;
- 2) границу государства с Россией пересекает река Неман;
- 3) наименьшую по протяженности государственную границу имеет с Латвией;
- 4) крайний северный пункт страны расположен в Лепельском районе.

A31. Исследованием озер Беларуси и их классификацией руководил(-а):

- 1) В.А. Дементьев;
- 2) А.Г. Медведев;
- 3) О.Ф. Якушко;
- 4) А.Х. Шкляр.

A32. Основные месторождения сырья для производства извести, цемента, шифера в Беларуси, – это:

- 1) Коммунарское, Каменка;
- 2) Мозырское, Давыдовское;
- 3) Старобинское, Петриковское;
- 4) Околовское, Новоселковское.

A33. Определите ОШИБОЧНОЕ утверждение в характеристике климата Беларуси:

- 1) наибольшее количество осадков выпадает в июле;
- 2) суммарная солнечная радиация увеличивается с севера на юг;
- 3) фенологическая зима является самой короткой порой года;
- 4) климат характеризуется положительными среднегодовыми температурами.

A34. Для гидрографии Полесской физико-географической провинции характерно(-ы):

- 1) преимущественно дождевое питание рек;
- 2) самые высокие показатели густоты речной сети;
- 3) отсутствие озер карстового происхождения;
- 4) наличие крупных остаточных озер.

A35. На территории Беларуси более высокий удельный вес украинцев характерен для:

- 1) западных районов;
- 2) южных районов;
- 3) северных районов;
- 4) восточных районов.

A36. Для промышленности Беларуси характерно(-а):

- 1) использование угля в качестве основного топлива на электростанциях страны;
- 2) наличие единственного предприятия черной металлургии в городе Могилеве;
- 3) наличие судостроения и судоремонта в составе машиностроения;
- 4) наибольшая доля фосфорных удобрений в структуре производства минеральных удобрений.

A37. Для сельского хозяйства Беларуси характерна(-о;-ен):

- 1) наименьшая концентрация посевов льна-долгунца в северных районах страны;
- 2) преобладание технических культур в структуре посевных площадей;
- 3) высокий удельный вес земель под постоянными культурами (садами и ягодниками) в структуре сельскохозяйственных угодий;
- 4) специализация хозяйств вокруг крупных городов на производстве молока.

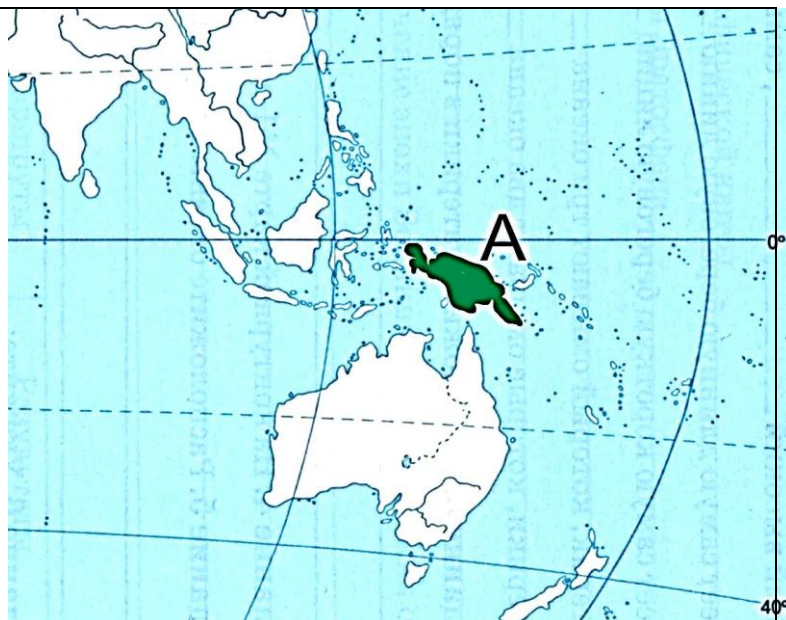
A38. Для транспорта Беларуси характерна(-о):

- 1) полная электрификация железных дорог;
- 2) наиболее густая сеть автомобильных дорог с твердым покрытием в Брестской области;
- 3) транспортировка грузов по Припяти и Днепроовско-Бугскому каналу;
- 4) широкое использование воздушного транспорта для внутренних грузоперевозок.

Часть В

Ответы, полученные при выполнении заданий части В, запишите в бланке ответов. Каждую букву, цифру пишите в отдельной клеточке (начиная с первой) по образцам, указанным в бланке. Ответ в виде слова, нескольких слов пишите без пробелов, дефиса или других разделительных знаков.

V1. Запишите название острова, выделенного на карте цветом и буквой.



V2. Расположите последовательно с юга на север следующие географические объекты:

- 1) пролив Дрейка;
- 2) озеро Виннипег;
- 3) полуостров Малая Азия;
- 4) остров Калимантан.

Ответ запишите цифрами, соблюдая полученную последовательность. Например: 2143.

В3. Установите соответствие:

Международная организация	Государство
А) СНГ Б) НАТО В) АСЕАН Г) БРИКС	1) ЮАР 2) США 3) Аргентина 4) Индонезия 5) Узбекистан

Ответ запишите в виде сочетания букв и цифр, соблюдая алфавитную последовательность букв левого столбца. Помните, что некоторые данные правого столбца могут не использоваться вообще. Например: А2Б1В4Г5.

В4. Зимой в субтропическом климатическом поясе господствуют ... воздушные массы.

Дополните предложение и запишите ответ словом.

В5. Государство, в котором несмотря на высокие темпы урбанизации сельское население преобладает над городским. По добыче угля и выплавке стали оно занимает первое место в мире. Столица государства –

Запишите столицу государства. Например: Минск.

В6. Установите соответствие:

Экономический и политический центр	Регион
А) Осло Б) Баку В) Ванкувер Г) Буэнос-Айрес	1) Западная Европа 2) Южная Америка 3) Северная Европа 4) Северная Америка 5) Юго-Западная Азия

Ответ запишите в виде сочетания букв и цифр, соблюдая алфавитную последовательность букв левого столбца. Помните, что некоторые данные правого столбца могут не использоваться вообще. Например: А2Б1В4Г5.

В7. Установите соответствие:

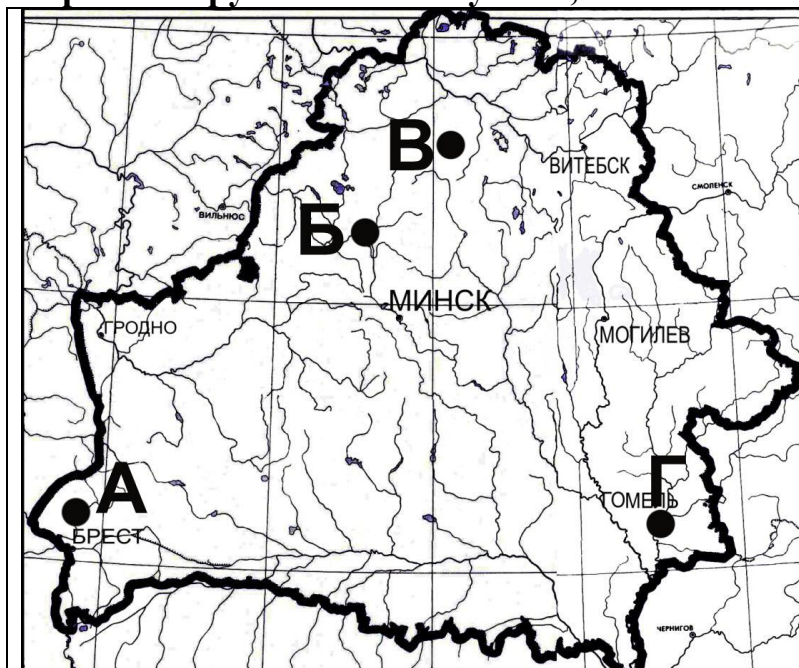
Характеристика	Государство
А) федеративная республика, мировой лидер по производству кукурузы	1) США 2) Китай
Б) федеративная республика, мировой лидер по производству кофе	3) Россия 4) Бразилия
В) государство, обладающее наибольшими запасами природного газа	5) Австралийский Союз
Г) унитарная республика с наибольшим в мире поголовьем свиней	

Ответ запишите в виде сочетания букв и цифр, соблюдая алфавитную последовательность букв левого столбца. Помните, что некоторые данные правого столбца могут не использоваться вообще. Например: А2Б1В4Г5.

В8. На территории ... области Беларуси ведется строительство Зельвенской ГРЭС.

Дополните предложение и запишите название области.

В9. Установите соответствие между географическим объектом, отмеченным на карте Беларуси точкой с буквой, и его названием:

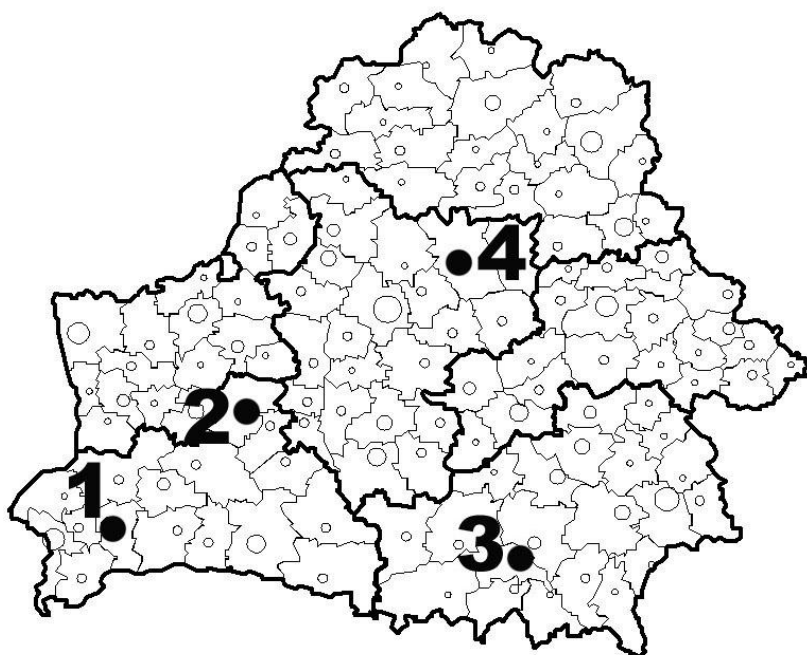


- 1) река Сож
- 2) река Мухавец
- 3) река Ясельда
- 4) озеро Долгое
- 5) Вилейское водохранилище

Ответ запишите в виде сочетания букв и цифр, соблюдая алфавитную последовательность букв. Помните, что некоторые данные правого столбца могут не использоваться вообще. Например: А2Б1В4Г5.

В10. Из отмеченных на картосхеме промышленных центров Беларуси – Борисов, Барановичи, Кобрин, Мозырь – хлопчатобумажные ткани производят в городе, отмеченном точкой с цифрой

Ответ запишите цифрой.



В11. Определите расстояние (в километрах) между пунктами с координатами 7° с. ш., 85° в. д. и 10° ю. ш., 85° в. д.

Ответ запишите в виде целого числа. Например: 218.

В12. На территории государства площадью 33,7 тыс. км² проживает 4,1 млн человек. Чему равна средняя плотность населения страны?

Ответ округлите до целого числа и запишите цифрами, единицы измерения не указывайте. Например: 21.